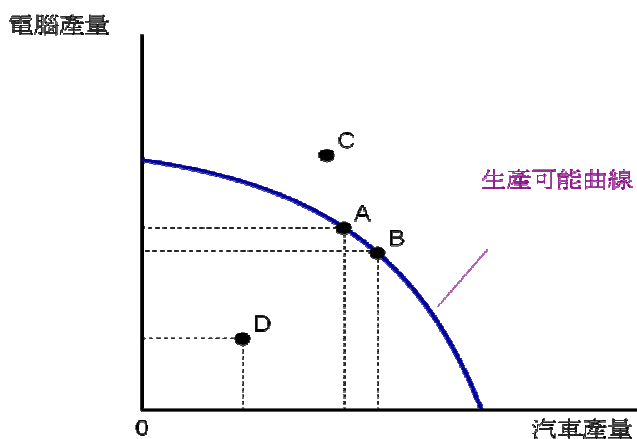


本試卷共有 50 題選擇題，請選出一個最適當的答案，答錯不倒扣。

1. 社會之所以會有稀少性現象是因為 (A)生產技術落後。(B)社會所擁有的資源相對於人們的慾望是有限的。(C)政府無能。(D)所得分配不均。
2. 下列敘述何者正確？(A)效率指的是經濟餅的大小，而公平指的是整個餅如何切割。(B)政府政策可以同時兼顧效率與公平。(C)當經濟餅切割得愈平均時，效率也愈高。(D)以上皆是
3. 有些天才型的職業球星，高中畢業後即投入職業運動，這是因為 (A)他們不了解繼續升學的價值。(B)他們繼續升學的機會成本太高。(C)他們書念得不好。(D)以上皆是。
4. 如果一個高工資國家跟一個低工資國家進行貿易，則 (A)只有高工資國家可以受惠。(B) 只有低工資國家可以受惠。(C)雙方都可以受惠。(D)雙方都無法受惠。
5. 什麼是各國生活水準差異最重要的決定因素？(A)生產力。(B)貨幣數量。(C)公平程度。(D)軍事力量。
6. 我們以下列何者來衡量一國的生產力？(A)為生產一定數量的商品與服務所需的勞工數量。(B)為生產一定數量的商品與服務所需的機器數量。(C)一個工人每小時所能生產的商品與服務的數量。(D)一台機器每小時所能生產的商品與服務的數量。

利用下圖回答第 7 至第 10 題



7. 圖中的哪一點代表失業的概念？(A)A 點。(B)B 點。(C)C 點。(D)D 點。
8. 圖中的 A 點 (A)是有效率的，但不可能達成。(B) 是有效率的，且有可能達成。(C)既無效率，且不可能達成。(D)雖無效率，但可能達成。
9. 某一經濟體系由下圖中的 A 點移向 B 點，代表下列哪一個概念？(A)經濟成長。(B)取捨。(C)無效率。(D)以上皆非。
10. 生產可能曲線的形狀呈現向外凸出是因為 (A)機會成本遞增。(B)機會成本遞減。(C)機會成本固定。(D)以上皆非。
11. 假設只有甲與乙兩個人且只有 X 與 Y 兩種商品。下列敘述何者正確？(A)若甲對 X 具有絕對利益，則乙對 Y 一定具有絕對利益。(B)若甲對 X 具有比較利益，則乙對 Y 一定具有比較利益。(C)若甲對 X 具有

比較利益，則甲對 X 也具有絕對利益。(D)以上皆非。

12. 假設只有甲與乙兩個人且只有 X 與 Y 兩種商品。下列敘述何者正確？(A)若甲對 X 不具有絕對利益，則甲對 X 也一定不具有比較利益。(B)若甲對 X 不具有比較利益，則甲對 X 也一定不具有絕對利益。(C)若甲對 X 不具有比較利益，則乙對 Y 也不具有比較利益。(D)以上皆非。

13. 下列哪些事件確定會造成均衡價格上漲？(A)市場需求增加且市場供給增加。(B)市場需求增加且市場供給減少。(C)市場需求減少且市場供給增加。(D)市場需求減少且市場供給減少。

14. 下列哪些事件確定會造成均衡數量增加？(A)市場需求增加且市場供給增加。(B)市場需求增加且市場供給減少。(C)市場需求減少且市場供給增加。(D)市場需求減少且市場供給減少。

15. 當鋼鐵價格上漲時，在其他條件不變下，汽車市場會有何反應？(A)均衡價格上升且均衡數量增加。(B)均衡價格上升且均衡數量減少。(C)均衡價格上升但均衡數量的變動方向不確定。(D)均衡價格下降且均衡數量增加。

16. 當人們變得喜歡喝咖啡且咖啡豆價格因欠收而上漲時，咖啡的 (A)均衡價格上升且均衡數量增加。(B)均衡價格上升且均衡數量減少。(C)均衡價格上升但均衡數量的變動方向不確定。(D)均衡價格下降且均衡數量增加。

17. 當市場價格低於均衡價格時，(A)市場存在超額需求。(B)市場存在超額供給。(C)市場會有剩餘。(D)以上皆有可能。

18. 當人們預期 X 商品其未來的價格會上升時，在其他條件不變下，現在的 X 市場會有何反應？(A)均衡價格上升且均衡數量增加。(B)均衡價格上升且均衡數量減少。(C)均衡價格上升但均衡數量的變動方向不確定。(D)均衡價格下降且均衡數量增加。

19. 如果 $(P_1, Q_1) = (5, 10)$ 與 $(P_2, Q_2) = (10, 10)$ 這兩點位在同一條需求曲線上，則這段需求是 (A)完全有彈性。(B)富有彈性。(C)缺乏彈性。(D)完全無彈性。

20. 如果不管某商品的價格如何變動，你的支出金額都一樣，則你對該商品的需求是 (A)富有彈性。(B)單一彈性。(C)缺乏彈性。(D)完全無彈性。

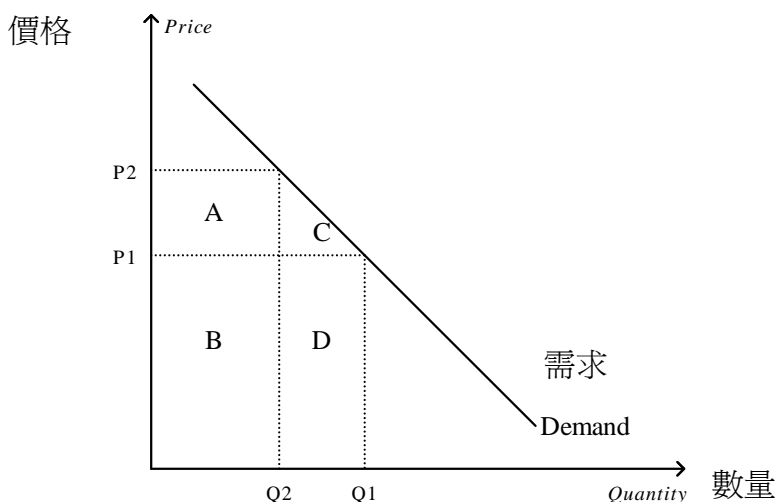
21. 如果不管某商品的價格如何變動，你的需求量都一樣，則你對該商品的需求是 (A)富有彈性。(B)單一彈性。(C)缺乏彈性。(D)完全無彈性。

22. 如果需求曲線是一條負斜率的直線，則價格愈高時，其價格彈性 (A)愈高。(B)不變。(C)愈低。(D) 以上皆有可能。

23. 如果某商品的需求價格彈性值為 2，則該商品的價格上漲 10% 會使其需求量 (A)減少 5%。(B)減少 10%。(C)減少 20%。(D)增加 10%。

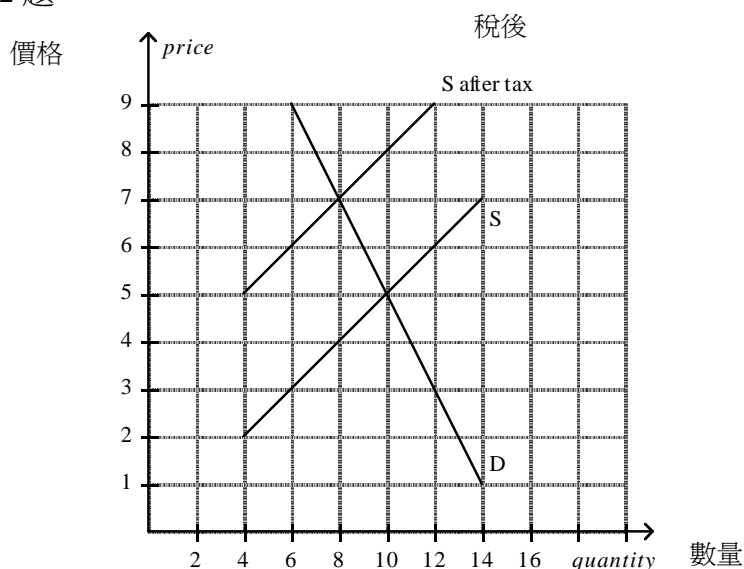
24. 如果你對某商品的需求是富有彈性的，則該商品的價格上漲時，你對該商品的支出金額會 (A)增加。(B)減少。(C)不變。(D)以上皆有可能。
25. 如果你對某商品的需求是無彈性的，則該商品的價格下跌時，你對該商品的支出金額會 (A)增加。(B)減少。(C)不變。(D)以上皆有可能。

利用下圖回答第 26 至第 27 題



26. 依上圖，當價格為 P_1 時，總收益為面積 (A) $B+D$ 。(B) $A+B$ 。(C) $C+D$ 。(D) D 。
27. 依上圖，如果面積 D 大於 A ，則表示當價格介於 P_1 與 P_2 之間時，需求是 (A)有彈性。(B)單一彈性。(C)無彈性。(D)以上皆非。
28. 當政府在競爭市場設下具約束力的價格上限時，(A)賣者可以在眾多可能的買者中分配該商品。(B)可能會出現大排長龍現象。(C)買者可能會遭受差別待遇。(D)以上皆是。

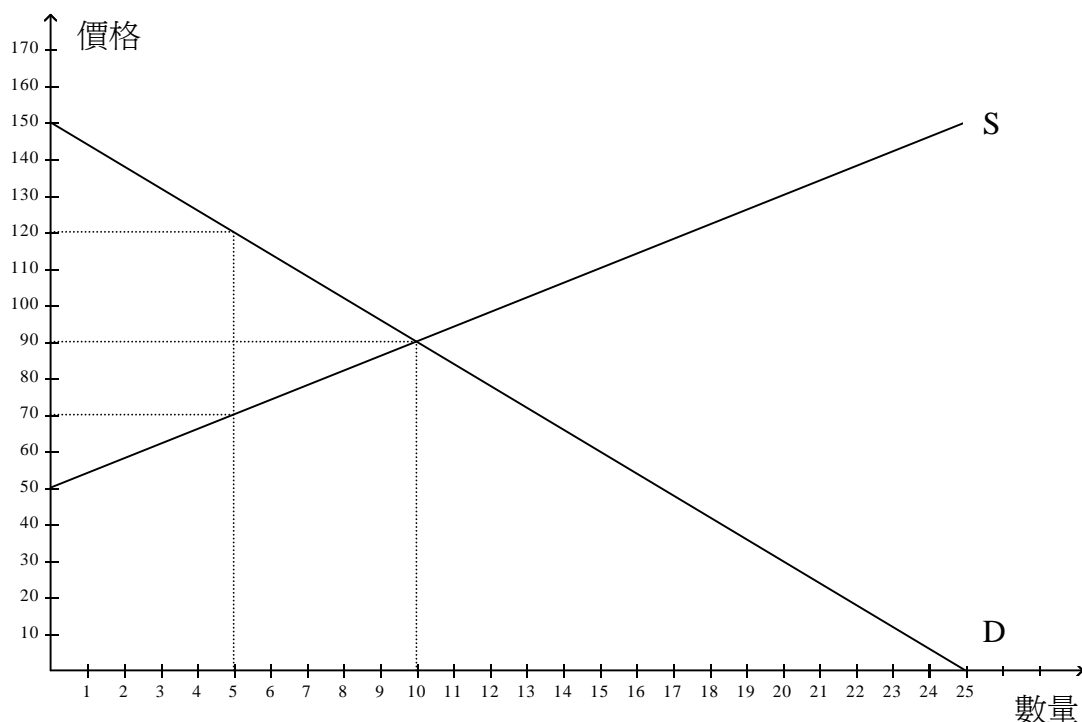
利用下圖回答第 29 至第 32 題



29. 依上圖，在政府課稅後，買者支付的價格為 (A)\$4。(B)\$5。(C)\$6。(D)\$7。

30. 依上圖，在政府課稅後，賣者收到的價格為 (A) \$2。(B) \$3。(C) \$4。(D) \$7。
31. 依上圖，每單位的稅額為 (A) \$2。(B) \$3。(C) \$4。(D) \$5。
32. 依上圖，政府的稅收金額為 (A) \$12。(B) \$24。(C) \$32。(D) \$56。

利用下圖回答第 33 至第 39 題



33. 依上圖，在均衡時，消費者剩餘為 (A) \$150。(B) \$200。(C) \$250。(D) \$300。
34. 依上圖，在均衡時，生產者剩餘為 (A) \$150。(B) \$200。(C) \$250。(D) \$300。
35. 依上圖，在均衡時，總剩餘為 (A) \$300。(B) \$400。(C) \$500。(D) \$600。
36. 當政府設下 \$120 的價格下限時，總剩餘為 (A) \$300。(B) \$325。(C) \$350。(D) \$375。
37. 當政府設下 \$120 的價格下限時，生產者剩餘比均衡時 (A)增加\$50。(B)增加\$100。(C)增加\$150。(D)減少\$50。
38. 當政府設下 \$70 的價格上限時，總剩餘會比均衡時減少 (A)\$100。(B)\$125。(C)\$150。(D)\$200。
39. 當政府設下 \$70 的價格上限時，消費者剩餘比均衡時 (A)增加\$25。(B)增加\$50。(C)增加\$100。(D)減少\$75。
40. 下列敘述何者正確？(A) GDP 只包括最終財的產值。(B)GDP 不單包括最終財的產值，也包括中間財的產值。(C)GDP 不包括存貨價值的變動。(D)GDP 只包括有形的商品，不包括無形的服務。
41. 下列敘述何者正確？(A) 一國存貨價值的增加列為 GDP 的加項。(B)一國存貨價值的增加列為 GDP 的減項。(C)一國存貨價值的變動與 GDP 無關。(D)一國存貨價值的增加列為消費的減項。
42. 如果一國 2008 年的名目 GDP 為 \$6000 億元，且 GDP 平減指數為 120，則該國 2008 年的實質 GDP 為 (A)50 億元。(B)500 億元。(C)5000 億元。(D)720000 億元。

43. 假設 1960 年的 CPI 為 20，今天的 CPI 為 100。今天用 \$500 所能買到的商品數量，在 1960 年要花 (A)\$20。(B)\$100。(C)\$200。(D)\$500。
44. 下列敘述何者正確？(A)如果物價膨脹率超過名目利率，則存款的購買力一定是上升的。(B)如果物價膨脹率超過名目利率，則存款的金額一定是減少的。(C)如果發生物價緊縮且名目利率不變，則存款的購買力一定是上升的。(D)以上皆非。
45. 下列何者是衡量一國經濟進步速度的良好指標？(A)名目 GDP 成長率。(B)實質 GDP 成長率。(C)股價指數成長率。(D)失業率。
46. 下列何者確定會造成利率上升？(A)可貸資金需求增加且供給增加。(B)可貸資金需求增加且供給減少。(C)可貸資金需求減少且供給增加。(D)可貸資金需求減少且供給減少。
47. 下列何者正確？(A)失業率 = $\frac{\text{失業人口}}{\text{成人人口}} \times 100$ 。(B)失業率 = $\frac{\text{失業人口}}{\text{勞動力}} \times 100$ 。(C)失業率 = $\frac{\text{失業人口}}{\text{非勞動力}} \times 100$ 。(D)失業率 = $\frac{\text{失業人口}}{\text{就業人口}} \times 100$ 。
48. 下列敘述何者正確？(A)最低工資是造成一國失業的最主要原因。(B)最低工資造成某些族群的高失業現象。(C)最低工資對各類勞工都造成相當程度的衝擊。(D)以上皆是。
49. 經濟學家用下列何者來描述一項資產被轉換成交易媒介的難易程度？(A)流動性。(B)流通速度。(C)乘數。(D)以上皆非。
50. 下列敘述何者正確？(A)貨幣是流動性最高的資產，且其價值儲存的功能通常也是最好的。(B)貨幣是流動性最高的資產，但其價值儲存的功能通常是最差的。(C)貨幣是流動性最低的資產，但其價值儲存的功能通常是最好的。(D)貨幣是流動性最低的資產，且其價值儲存的功能通常也是最差的。